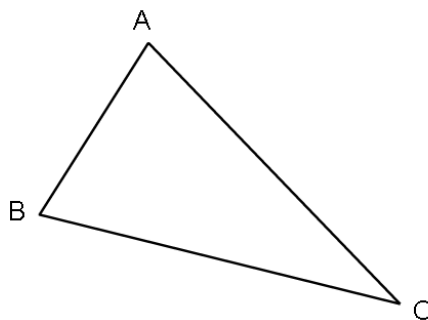


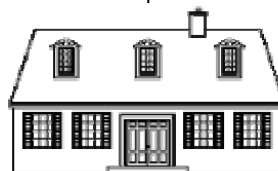
**1 Misura la lunghezza del lato BC. / Matë gjatësinë e brinjës BC.**

Risposta: / Pergjigje: .....

**2 Cerchia la risposta corretta. / Rretho përgjigjen e saktë**

La lunghezza della casa è: / Gjatësia e shtëpisë është

- ▶ 15 chilogrammi / 15 kilogramë
- ▶ 15 metri / 5 metra
- ▶ 15 litri / 15 litra



La mucca pesa: / Lopa peshon:

- ▶ 800 metri / 800 metra
- ▶ 800 ore / 800 orë
- ▶ 800 chili / 800 kile



La bottiglia contiene: / Shishja përmban:

- ▶ 1 chilometro / 1 kilometër
- ▶ 1 litro / 1 litër
- ▶ 1 ora / 1 orë




L'orologio segna: / Ora shënon:

- ▶ 10 litri / 10 litra
- ▶ 10 euro / 10 euro
- ▶ le ore 10 / Orën 10



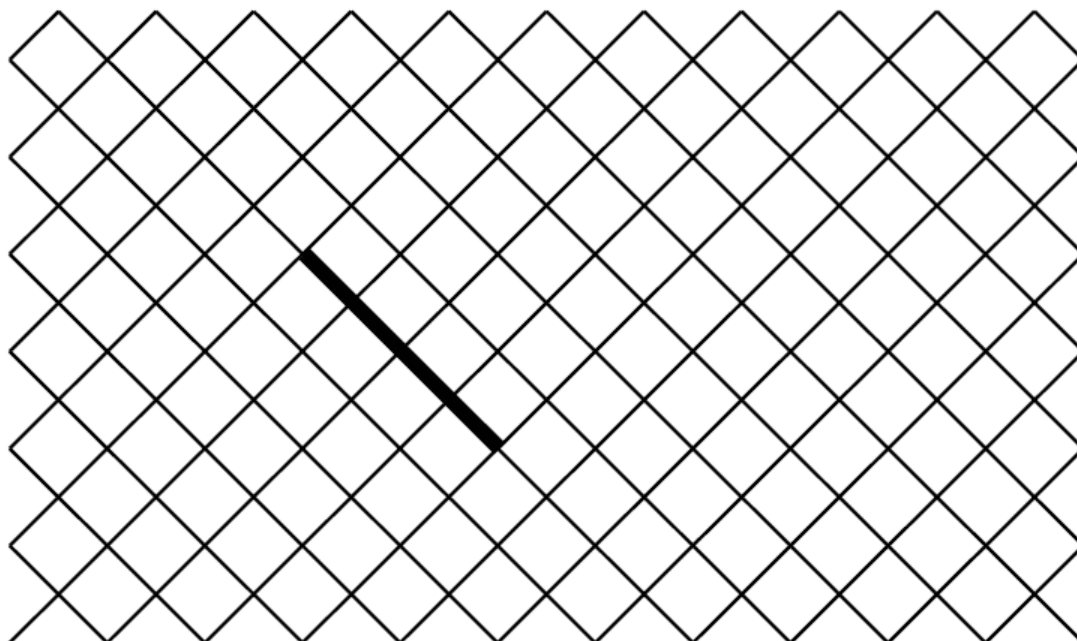
**3 Traccia partendo dal punto una linea lunga 7 cm.**

**Vizato duke filluar nga pika, një vijë të gjatë 7 cm.**



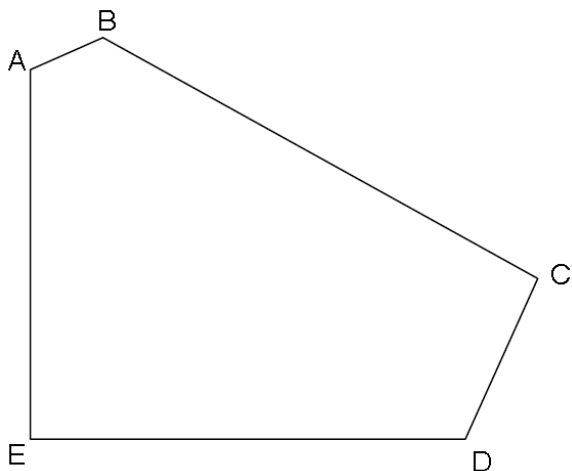
**4 Disegna un quadrato partendo del lato già fatto.**

**Vizato një katror duke u nisur nga brinja e kryer.**



**5 Osserva la figura e completa.**

**Vëzhgo figurën dhe plotëso.**



**a) Quanti lati ha questa figura? / Sa brinja ka kjo figurë?**

Risposta / Përgjigje: .....

**b) Quanti vertici ha questa figura? / Sa kulme ka kjo figurë?**

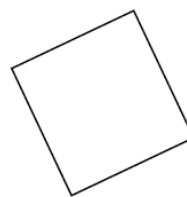
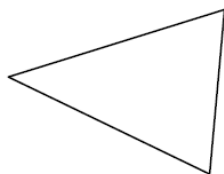

Risposta / Përgjigje: .....

**c) Quanti angoli retti ha questa figura? / Sa kënde të drejta ka kjo figurë?**

Risposta / Përgjigje: .....

**6 Cerchia il nome di ogni figura.**

**Rretho emrin e ç'do figure.**



▶ cerchio / rreth

▶ cubo / kub

▶ rettangolo / drëjtëkëndesh

▶ quadrato / katror

▶ rettangolo / drejtëkëndësh

▶ cerchio / rreth

▶ rettangolo / drejtëkëndësh

▶ triangolo / trekëndësh

▶ quadrato / katror

▶ triangolo / trekëndësh

▶ cerchio / rreth

▶ triangolo / trekëndësh

7 Metti in ordine i numeri dal più piccolo al più grande:  
 Rendit numrat nga më i vogli tek më i madhi:

152   2   14   7   125   41   20

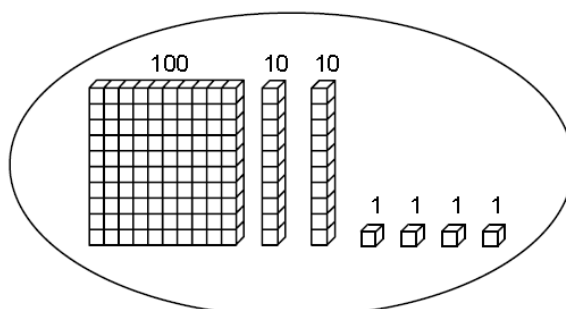
--	--	--	--	--	--	--

8 Completa la serie dei numeri  
 Ploteso seritë e numrave:

150	140	130	.....	.....	.....	.....	.....	.....	.....	50
-----	-----	-----	-------	-------	-------	-------	-------	-------	-------	----

9 Osserva l'esempio e cerchia il numero corretto.  
 Vëzhgo shëmbullin dhe rretho numrin e saktë.

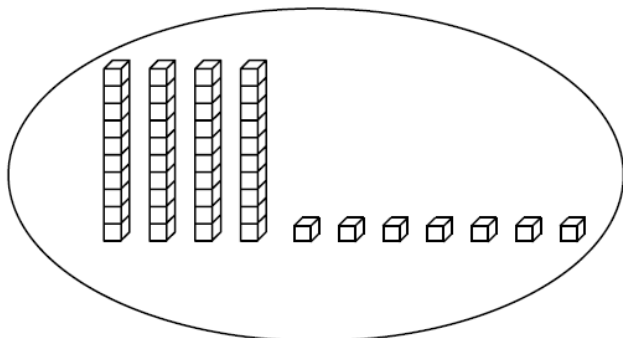
Esempio / Shëmbull:



421

124

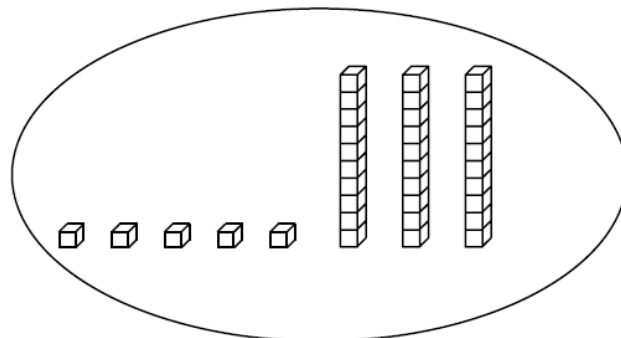
241



84

74

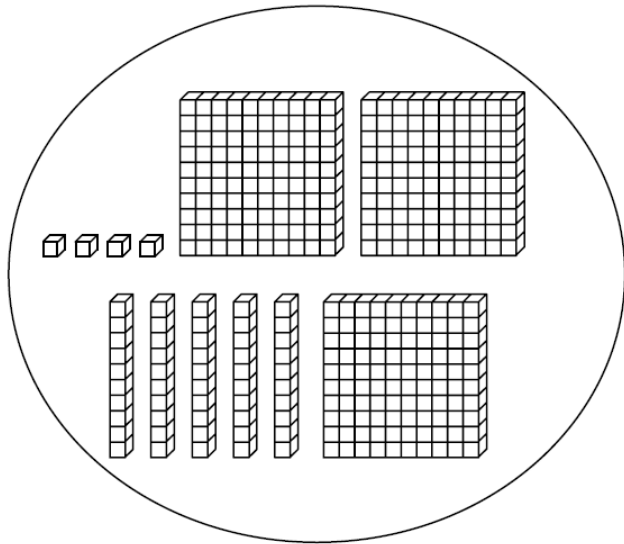
47



35

53

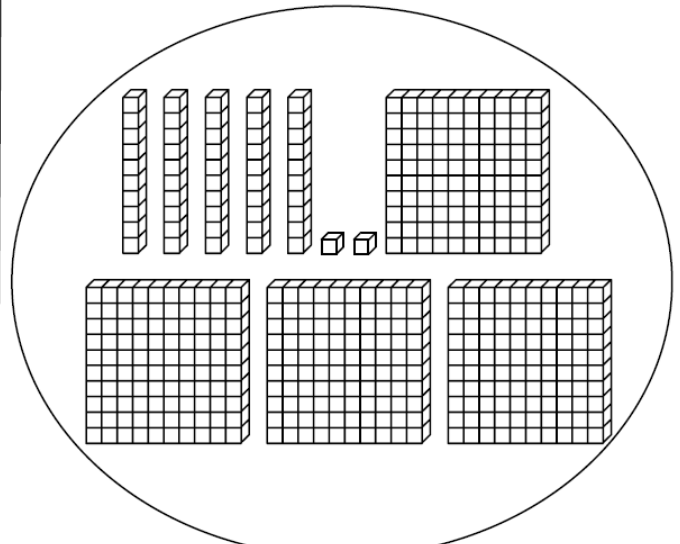
23



354

345

454



542

452

245

10 Calcola / Njehso

$$48 +$$

$$31$$

$$166 +$$

$$254$$

11 Calcola / Njehso

$$87 -$$

$$52$$

$$512 -$$

$$139$$

**12 Calcola / Njehso**



$$\begin{array}{r} 7 \ 5 \ x \\ 3 \end{array}$$

**13 Leggi questo problema e risolvi / Lexo dhe zgjidhë këtë problemë:**

a) Nella classe, ci sono 26 alunni. La maestra distribuisce 4 libri a ciascuno. Quanti libri devono essere distribuiti?

Klasa ka 26 nxënës. Mësuesja i shpërndan secilit 4 libra. Sa libra duhet të shpërndahen?

Risposta / Përgjigje: . . . . .

b) Si distribuisce 32 carte a 4 giocatori. Quante carte ha ogni giocatore?

Shpërndahen 32 karta për lojtar. Sa karta ka secili lojtar?

Risposta / Përgjigje: . . . . .

**14 Leggi il problema e cerchia la risposta corretta****Lexo problemën dhe rretho përgjigjen e saktë:**

**a)** Enzo ha 14 palloni rossi e 16 palloni azzurri. Quanti palloni ha in tutto?

Enco ka 14 topa të kuqë dhe 16 topa topa blu. Sa topa ka gjithësej?

▶  $16 - 14$

▶  $14 + 14$

▶  $16 + 14$

**b)** Nella classe ci sono 29 alunni. 15 sono ragazzi. Quante ragazze ci sono?

Klasa ka 29 nxënës. 15 janë djem. Sa vajza ka klasa?

▶  $29 + 15$

▶  $15 + 29$

▶  $29 - 15$