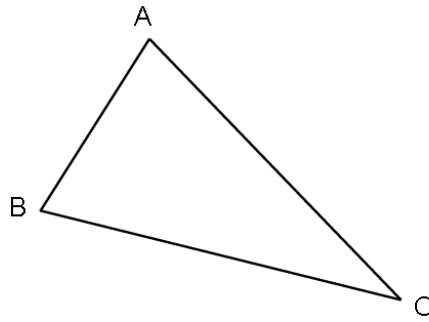


1 Misura la lunghezza del lato BC.

احسب طول الضلع BC :



Risposta: الجواب

2 Cerchia la risposta corretta.

أحط الجواب الصحيح بخط معلق :

La lunghezza della casa è:

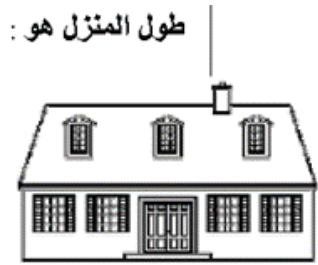
- ▶ 15 chilogrammi
- ▶ 15 metri
- ▶ 15 litri

طول المنزل هو :

◀ 15 كيلوغرام

◀ 15 مترا

◀ 15 لترا



La mucca pesa:

- ▶ 800 metri
- ▶ 800 ore
- ▶ 800 chili

تزن البقرة :

◀ 8 00 متر

◀ 800 ساعة

◀ 800 كيلوغرام



La bottiglia contiene

- ▶ 1 chilometro
- ▶ 1 litro
- ▶ 1 ora

تحتوي القارورة على :

◀ 1 كيلومتر

◀ 1 لتر

◀ ساعة واحدة



L'orologio segna:

- ▶ 10 litri
- ▶ 10 euro
- ▶ le ore 10

الساعة تشير :

◀ 10 لتر


◀ 10 أورو.

◀ الساعة العاشرة.



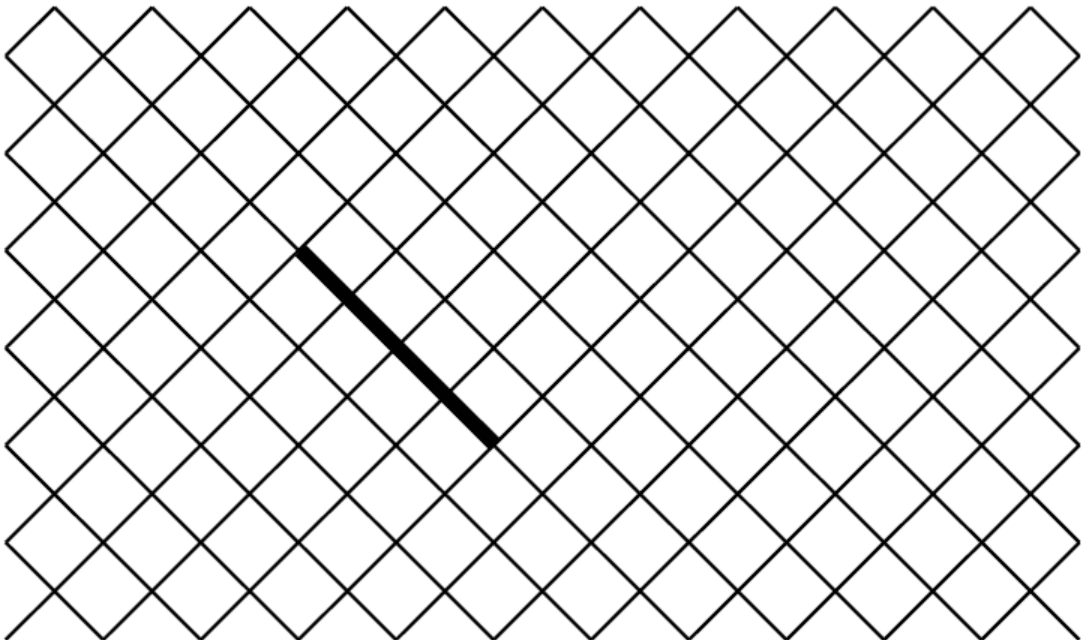
3 Traccia partendo dal punto una linea lunga 7 cm.

ارسم خطا طوله 7 سم انطلاقا من النقطة :

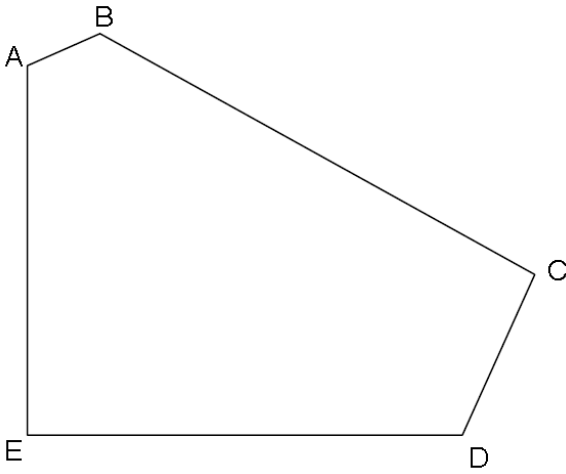


4 Disegna un quadrato partendo del lato già fatto.

ارسم مربعا انطلاقا من الضلع المرسوم :



5 **Osserva la figura e completa. لاحظ الشكل ثم اتمم :**



a) Quanti lati ha questa figura?

Risposta:

كم هو عدد أضلاع هذا الشكل ؟

الجواب :

b) Quanti vertici ha questa figura?

Risposta:

كم هو عدد رؤوس هذا الشكل ؟

الجواب :

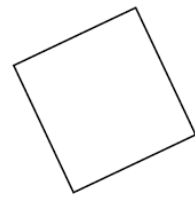
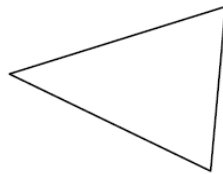
c) Quanti angoli retti ha questa figura?

Risposta:

كم هو عدد الزوايا القائمة في هذا الشكل ؟

الجواب :

6 **Cerchia il nome di ogni figura. أحط بخط مغلق اسم كل شكل :**



- | | | | | | |
|--------------|----------|--------------|----------|--------------|----------|
| ▶ cerchio | ◀ دائرة | ▶ cubo | ◀ مكعب | ▶ rettangolo | ◀ مستطيل |
| ▶ quadrato | ◀ مربع | ▶ rettangolo | ◀ مثلث | ▶ cerchio | ◀ دائرة |
| ▶ rettangolo | ◀ مستطيل | ▶ triangolo | ◀ مستطيل | ▶ quadrato | ◀ مربع |
| ▶ triangolo | ◀ مثلث | ▶ cerchio | ◀ دائرة | ▶ triangolo | ◀ مثلث |

7 Metti in ordine i numeri dal più piccolo al più grande:

رتب من الأصغر إلى الأكبر :

152 2 14 7 125 41 20

--	--	--	--	--	--	--	--

8 Completa la serie dei numeri

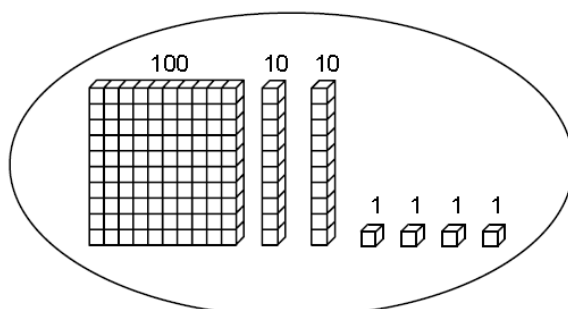
اتم المتتالية العددية :

150	140	130	50
-----	-----	-----	-------	-------	-------	-------	-------	-------	-------	----

9 Osserva l'esempio e cerchia il numero corretto.

أحط بخط مغلق العدد المناسب كما هو في المثال :

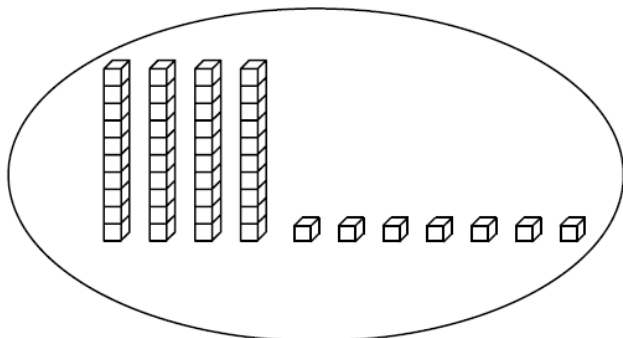
Esempio : مثال



421

124

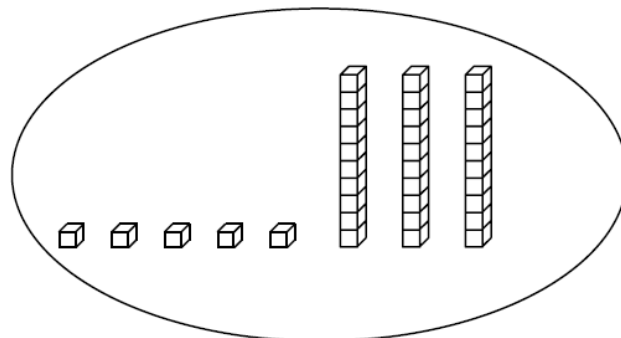
241



84

74

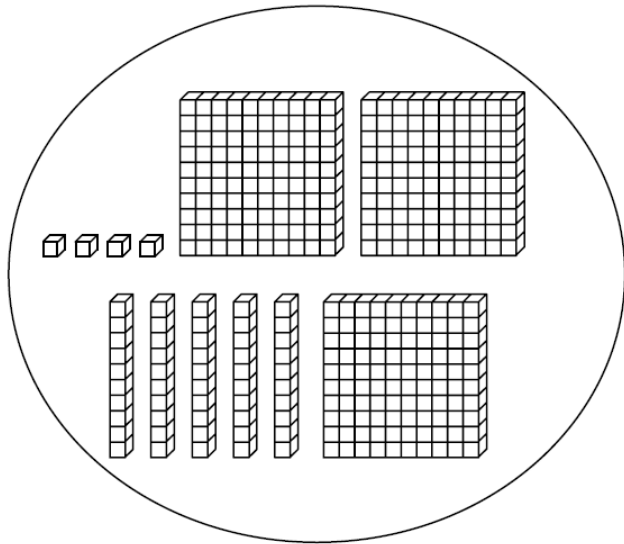
47



35

53

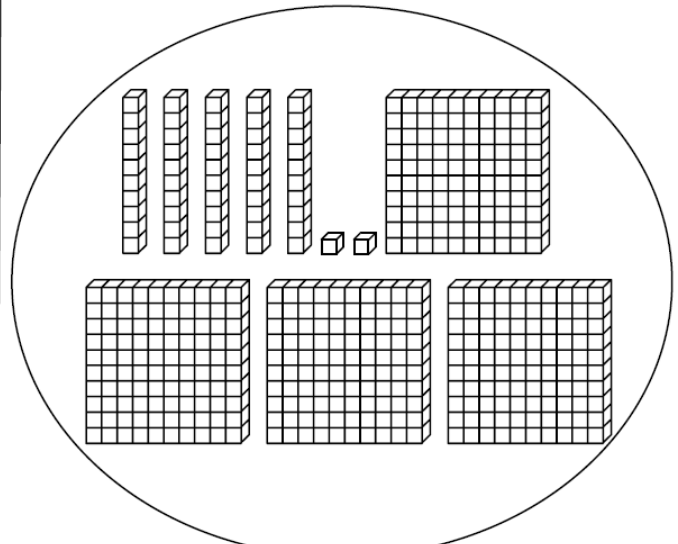
23



354

345

454



542

452

245

10 Calcola احسب:

$$48 +$$

$$31$$

$$166 +$$

$$254$$

11 Calcola احسب:

$$87 -$$

$$52$$

$$512 -$$

$$139$$

12 Calcola احسب:

$$\begin{array}{r} 32 \\ \times 4 \\ \hline \end{array}$$

$$\begin{array}{r} 75 \\ \times 3 \\ \hline \end{array}$$

13 Leggi questo problema e risolvi.

اقرأ المسألة واجب عن السؤال .

a) Nella classe, ci sono 26 alunni. La maestra distribuisce 4 libri a ciascuno. Quanti libri devono essere distribuiti?

في قسم يحتوي على 26 تلميذا. وزعت المعلمة 4 كتب لكل تلميذ.
- كم من كتب وزعت المعلمة في المجموع؟

Risposta:

الجواب :

b) Si distribuisce 32 carte a 4 giocatori. Quante carte ha ogni giocatore?

في لعبة ورق نوزع 32 ورقة على 4 لاعبين.
- ما هو عدد الأوراق لكل لاعب؟

Risposta:

الجواب :

14 Leggi il problema e cerchia la risposta corretta.

اقرأ المسألة و أخط بخط مغلق الجواب الصحيح :

a) Enzo ha 14 palloni rossi e 16 palloni azzurri. Quanti palloni ha in tutto?

عند توم 14 كرة حمراء و 16 كرة زرقاء.

▶ $16 - 14$

- كم عنده من كرة في المجموع ؟

▶ $14 + 14$

▶ $16 + 14$

b) Nella classe ci sono 25 alunni. 15 sono ragazzi. Quante ragazze ci sono?

في قسم يوجد 25 تلميذاً. 15 تلميذ هم من

الذكور. ما هو عدد الإناث في هذا القسم ؟

▶ $25 + 15$

▶ $15 + 25$

▶ $25 - 15$