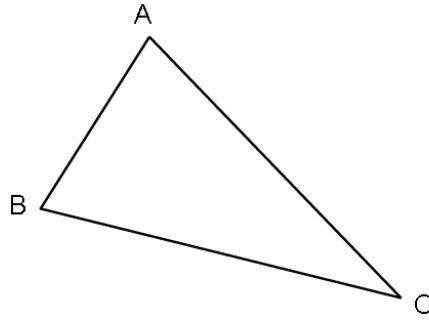


1 Misura la lunghezza del lato BC. পাশের দৈর্ঘ্য পরিমাপ করুন.

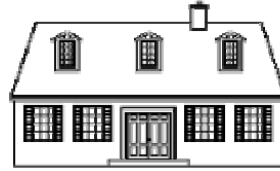


Risposta: উত্তর: .....

2 Cerchia la risposta corretta. সঠিক উত্তর সার্কেল.

La lunghezza della casa è: বাড়ির দৈর্ঘ্য হল:

- ▶ 15 chilogrammi 15 কিলোগ্রাম
- ▶ 15 metri 15 মিটার
- ▶ 15 litri 15 লিটার



La mucca pesa: গরুর ওজন:

- ▶ 800 metri 800 মিটার
- ▶ 800 ore 800 ঘন্টা
- ▶ 800 chili 800 কিলো



La bottiglia contiene: বোতল রয়েছে:

- ▶ 1 chilometro 1 কিলোমিটার
- ▶ 1 litro 1 লিটার
- ▶ 1 ora 1 ঘন্টা




L'orologio segna: ঘড়িতে কয়টা বাজে

- ▶ 10 litri 10 লিটার
- ▶ 10 euro 10 ইউরো
- ▶ le ore 10 10 ঘন্টা



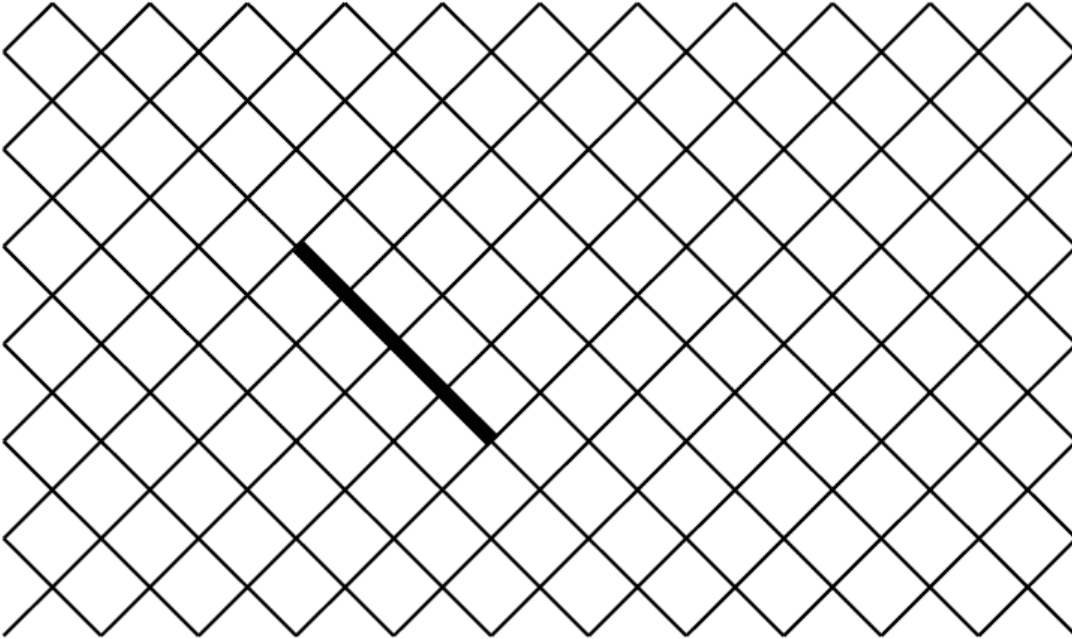
3 Traccia partendo dal punto una linea lunga 7 cm.

দীর্ঘ লাইন বিন্দু 7 থেকে ট্রেস



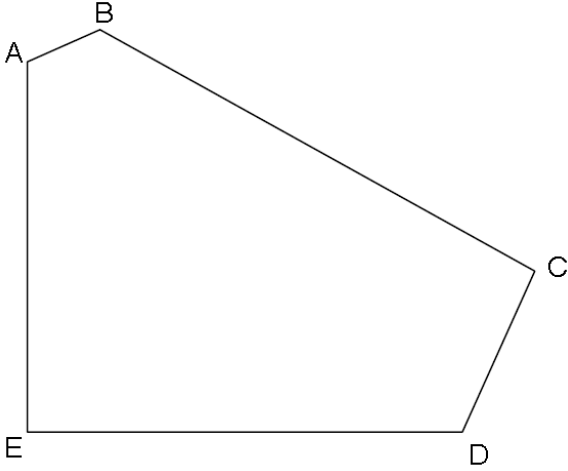
4 Disegna un quadrato partendo del lato già fatto.

ইতিমধ্যে সম্পন্ন পক্ষ থেকে শুরু একটি বর্গ আঁকা



**5 Osserva la figura e completa.**

পরিসংখ্যান এবং সম্পূর্ণ পরিদর্শন করুন .



a) Quanti lati ha questa figura? আপনি কিভাবে একটি সামঞ্জস্য খুঁজছেন?

Risposta উত্তর: .....

b) Quanti vertici ha questa figura? উদ্ভূতি কি?

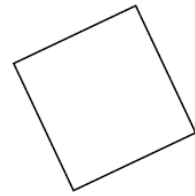
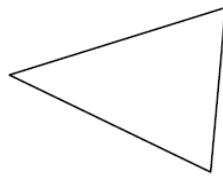
Risposta উত্তর: .....

c) Quanti angoli retti ha questa figura? এই চিত্রে কত ডান কোণ আছে?

Risposta উত্তর: .....

**6 Cerchia il nome di ogni figura.**

বৃত্ত প্রতিটি নাম এর নাম.



► cerchio বৃত্ত

► cubo ঘনক্ষেত্র

► rettangolo আয়তক্ষেত্র

► quadrato বর্গাকার

► rettangolo আয়তক্ষেত্র

► cerchio বৃত্ত

► rettangolo আয়তক্ষেত্র

► triangolo ত্রিভুজ

► quadrato বর্গাকার

► triangolo ত্রিভুজ

► cerchio বৃত্ত

► triangolo ত্রিভুজ

7 Metti in ordine i numeri dal più piccolo al più grande:

সংখ্যার ছোট থেকে বৃহত্তম পর্যন্ত সাজান:

152 2 14 7 125 41 20

--	--	--	--	--	--	--	--

8 Completa la serie dei numeri

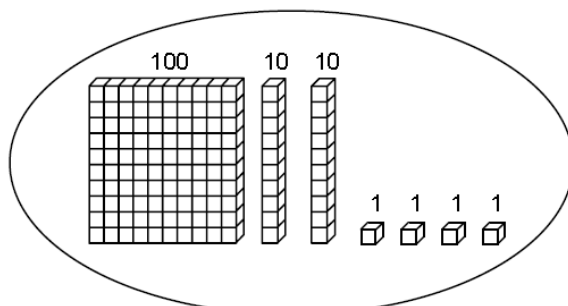
৮ সংখ্যা সিরিজ সম্পূর্ণ করুন

150	140	130	.....	.....	.....	.....	.....	.....	.....	50
-----	-----	-----	-------	-------	-------	-------	-------	-------	-------	----

9 Osserva l'esempio e cerchi il numero corretto.

উদাহরণ তাকান এবং সঠিক এক বৃত্ত.

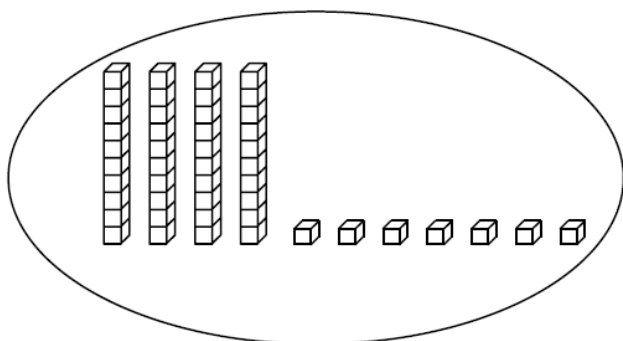
Esempio: উদাহরণ:



421

124

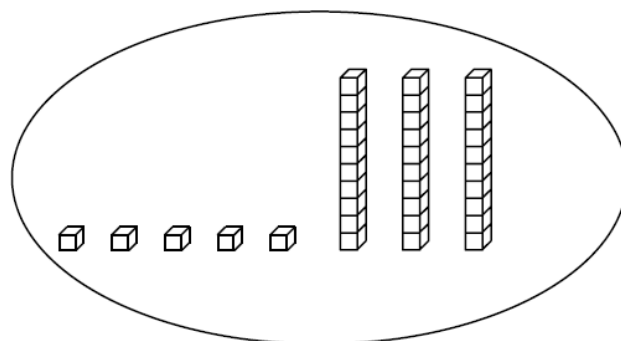
241



84

74

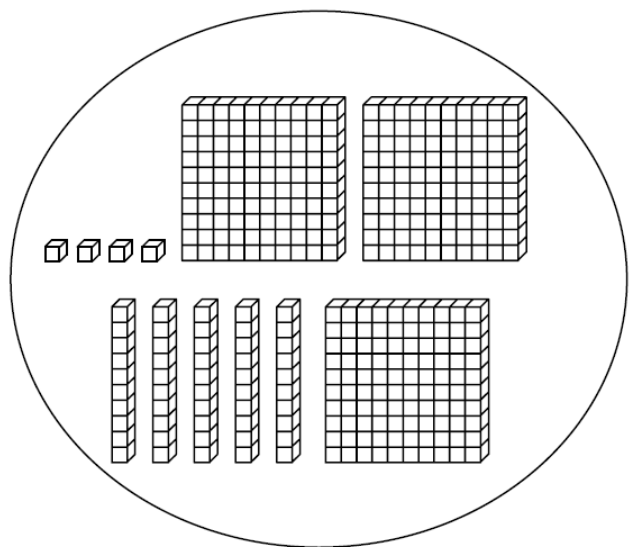
47



35

53

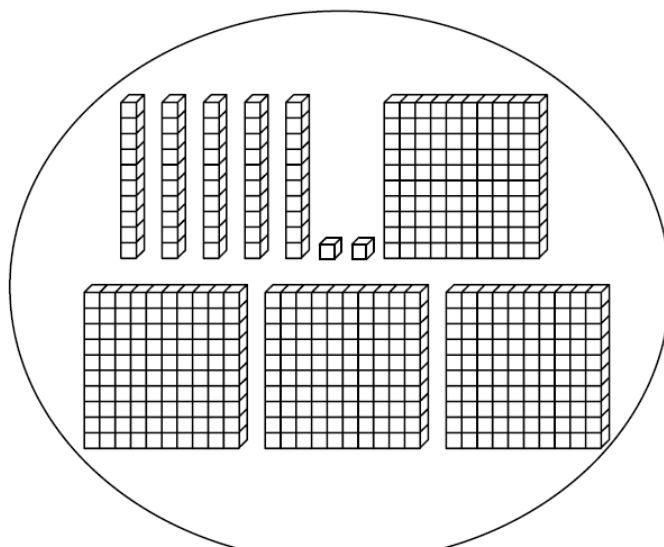
23



354

345

454



542

452

245

10 Calcola গণনা করা

$$48 +$$

$$31$$

$$166 +$$

$$254$$

11 Calcola গণনা করা

$$87 -$$

$$52$$

$$512 -$$

$$139$$

**12 Calcola গণনা করা**

$$\begin{array}{r} 32 \\ \times 4 \\ \hline \end{array}$$

$$\begin{array}{r} 75 \\ \times 3 \\ \hline \end{array}$$

**13 Leggi questo problema e risolvi এই সমস্যা পড়ুন সম্পূর্ণ করুন:**

a) Nella classe, ci sono 26 alunni. La maestra distribuisce 4 libri a ciascuno. Quanti libri devono essere distribuiti?

শ্রেণিতে, ২৬ জন শিক্ষার্থী রয়েছে। শিক্ষক প্রতিটি বই ৪ বিতরণ করে। কত বই বিতরণ করা আবশ্যিক?

Risposta/ উত্তর: .....

b) Si distribuisce 32 carte a 4 giocatori. Quante carte ha ogni giocatore?

৩২ কার্ডে ৪ টি খেলোয়াড়ের কতগুলি কার্টুন গেমার রয়েছে?

Risposta/ উত্তর: .....

**12 Leggi il problema e cerchia la risposta corretta**

সমস্যাটি পড়ুন এবং সঠিক উত্তর বৃত্তান্ত করুন:

a) Enzo ha 14 palloni rossi e 16 palloni azzurri.

ইনজো আছে 14 টি লাল বল এবং 16 নীল বল রয়েছে.

Quanti palloni ha in tutto?

এটা কত বল আছে সব?

▶ 16 - 14

▶ 14 + 14

▶ 16 + 14

b) Nella classe ci sono 29 alunni. 15 sono ragazzi. Quante ragazze ci sono?

শ্রেণীতে ২৭ জন ছাত্র রয়েছে. 15 ছেলে হয়. কত মেয়ে আছে?

▶ 29 + 15

▶ 15 + 29

▶ 29 - 15