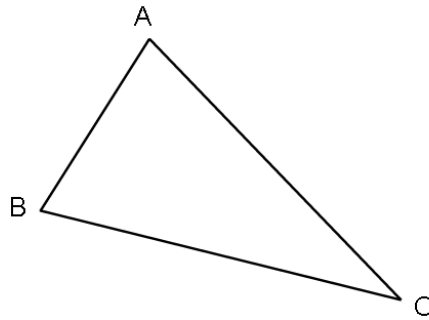


1 Misura la lunghezza del lato BC. 表示线段 BC 长度的计量单位.

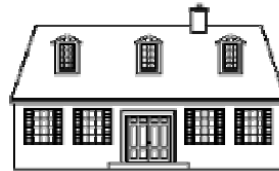


Risposta: 回答:

2 Cerchia la risposta corretta. 圈出正确答案


La lunghezza della casa è: 房屋的长度

- ▶ 15 chilogrammi 15 公斤
- ▶ 15 metri 5 米
- ▶ 15 litri 15 升



La mucca pesa: 那头牛

- ▶ 800 metri 800 米
- ▶ 800 ore 800 小时
- ▶ 800 chili 800 公斤



La bottiglia contiene: 瓶子里装着

- ▶ 1 chilometro 1 公里
- ▶ 1 litro 1 升
- ▶ 1 ora 1 小时




L'orologio segna: 那块表的时刻是:

- ▶ 10 litri 10 升
- ▶ 10 euro 10 欧元
- ▶ le ore 10 10 点

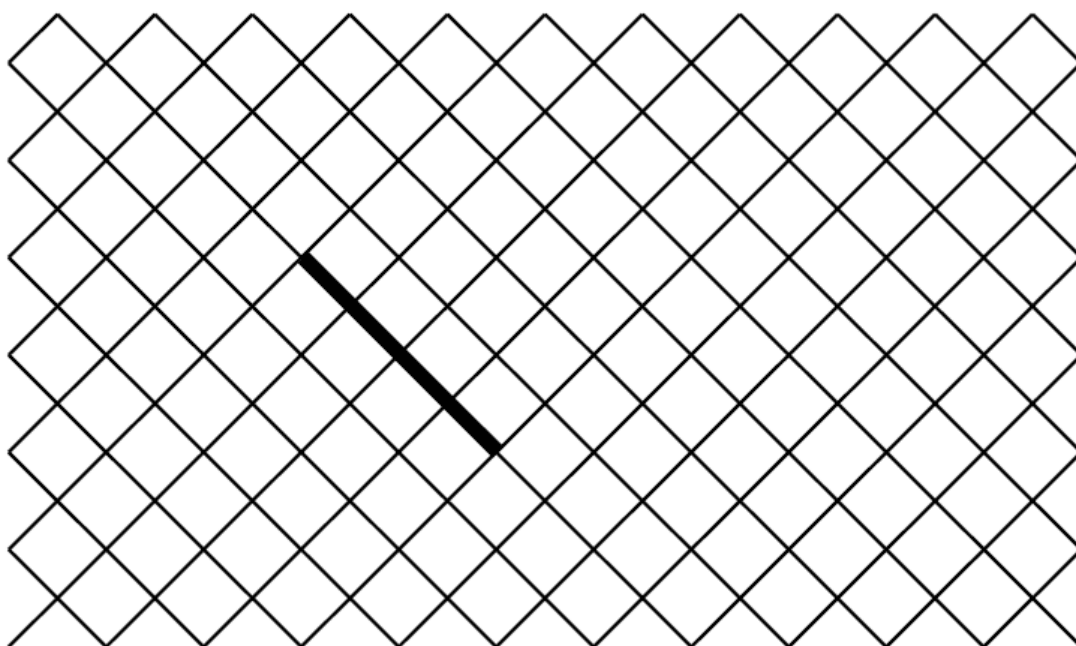


3 Traccia partendo dal punto una linea lunga 7 cm.

由点出发，画一条长 7 厘米的线段。

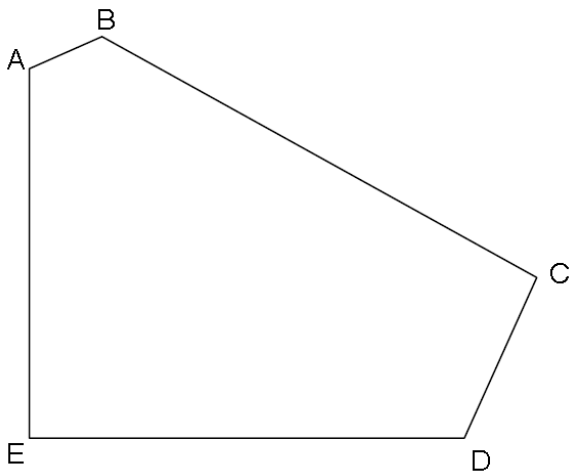
**4 Disegna un quadrato partendo del lato già fatto.**

以给出的线段为边，画一个正方形。



5 Osserva la figura e completa.

观察图形，回答以 问题。



a) Quanti lati ha questa figura? 这个图形有几条边 ?

Risposta 回答:

b) Quanti vertici ha questa figura? 这个图形有几个顶点 ?

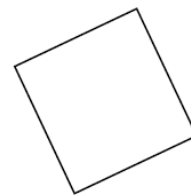
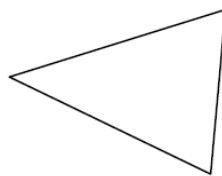

Risposta 回答:

c) Quanti angoli retti ha questa figura? 这个图形有几个直角 ?

Risposta 回答:

6 Cerchia il nome di ogni figura.

圈出对应的图形名称



► cerchio / 圆周

► cubo 正方体

► rettangolo 长方形

► quadrato / 正方形

► rettangolo 长方形

► cerchio 圆周

► rettangolo /长方形

► triangolo 三角形

► quadrato 正方形

► triangolo / 三角形

► cerchio 圆周

► triangolo 三角形

7 Metti in ordine i numeri dal più piccolo al più grande:

由小到大排序:

152 2 14 7 125 41 20

--	--	--	--	--	--	--	--

8 Completa la serie dei numeri

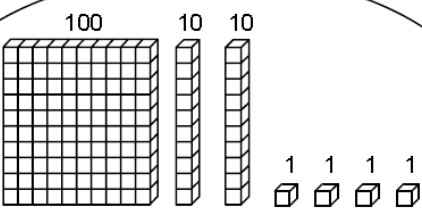
写出数列后续的项:

150	140	130	50
-----	-----	-----	-------	-------	-------	-------	-------	-------	-------	----

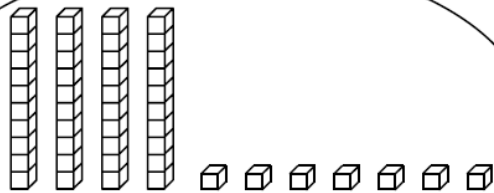
9 Osserva l'esempio e cerchi il numero corretto.

按给出的例子，圈出对应的数

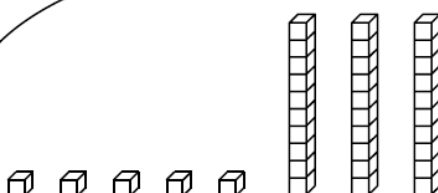
Esempio 例如



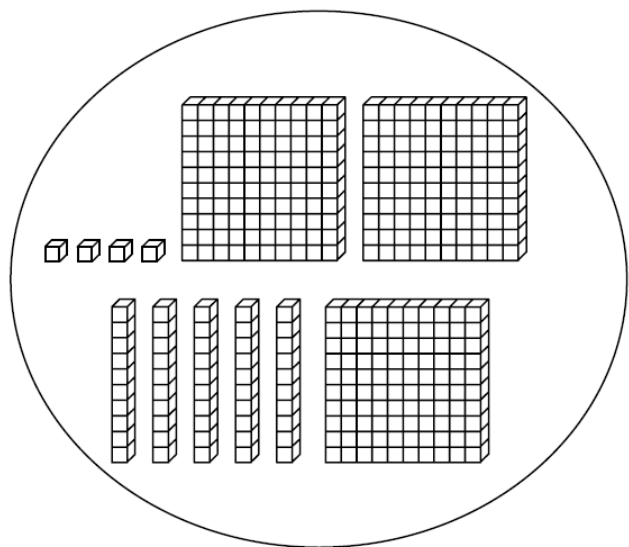
421
124
241



84
74
47



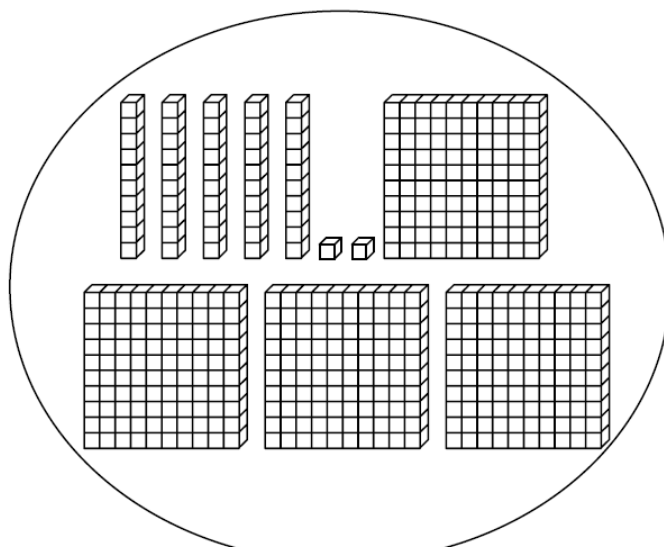
35
53
23



354

345

454



542

452

245

10 Calcola 计算

$$48 +$$

$$31$$

$$166 +$$

$$254$$

11 Calcola 计算

$$87 -$$

$$52$$

$$512 -$$

$$139$$

12 Calcola 计算

$$\begin{array}{r} 32 \\ \times 4 \\ \hline \end{array}$$

$$\begin{array}{r} 75 \\ \times 3 \\ \hline \end{array}$$

13 Leggi questo problema e risolvi 读题并给出答案。

a) Nella classe, ci sono 26 alunni. La maestra distribuisce 4 libri a ciascuno. Quanti libri devono essere distribuiti?

班上有26 个学生。老师给每个学生4 本书。

老师一共有多少本书？

Risposta 回答:

b) Si distribuiscono 32 carte a 4 giocatori. Quante carte ha ogni giocatore?

将 32 张牌平均发给 4 个人。每个人手里有几张牌？

Risposta 回答:

14 Leggi il problema e cerchia la risposta corretta

读题并圈出正确答案。

a) Enzo ha 14 palloni rossi e 16 palloni azzurri. Quanti palloni ha in tutto?

Enzo 有 14 个红球和 16 个蓝球。他一共有多少个球？

▶ $16 - 14$

▶ $14 + 14$

▶ $16 + 14$

b) Nella classe ci sono 29 alunni. 15 sono ragazzi. Quante ragazze ci sono?

班上有 29 个学生，其中有 15 个男孩。请问班上有多少女孩？

▶ $29 + 15$

▶ $15 + 29$

▶ $29 - 15$