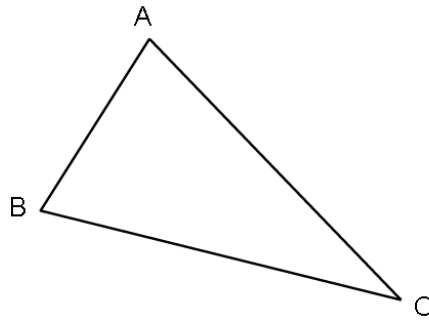


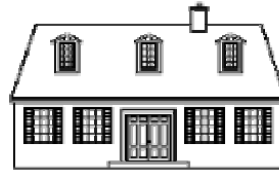
1 Misura la lunghezza del lato BC. Mide la longitud de BC.

Risposta: Respuesta:

2 Cerchia la risposta corretta. Marca con un círculo la respuesta correcta.

La lunghezza della casa è: La longitud de la casa es de:

- ▶ 15 chilogrammi 15 kilogramos
- ▶ 15 metri 5 metros
- ▶ 15 litri 15 litros



La mucca pesa: La vaca pesa:

- ▶ 800 metri 800 metros
- ▶ 800 ore 800 horas
- ▶ 800 chili 800 kilos



La bottiglia contiene: La botella contiene:

- ▶ 1 chilometro 1 kilómetro
- ▶ 1 litro 1 litro
- ▶ 1 ora 1 hora




L'orologio segna: El reloj indica:

- ▶ 10 litri 10 litros
- ▶ 10 euro 10 euros
- ▶ le ore 10 10 horas




3 Traccia partendo dal punto una linea lunga 7 cm.

Traza una recta de 7 cm de longitud, a partir del punto.

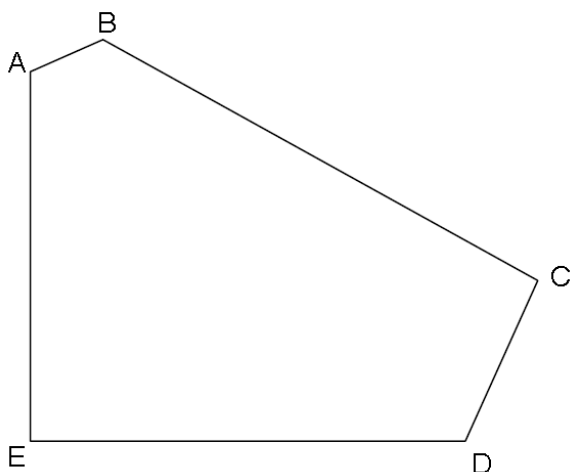


4 Disegna un quadrato partendo del lato già fatto.

Traza un cuadrado, partiendo del lado ya dibujado



5 Osserva la figura e completa. Observa la figura y completa



a) Quanti lati ha questa figura? ¿Cuántos lados tiene esta figura?

Risposta Respuesta:

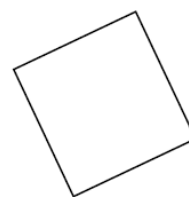
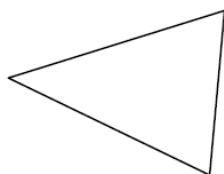
b) Quanti vertici ha questa figura? ¿Cuántas cúspides tiene esta figura?

Risposta Respuesta:

c) Quanti angoli retti ha questa figura? ¿Cuántos ángulos rectos tiene esta figura?

Risposta Respuesta:

6 Cerchia il nome di ogni figura. Marca con un círculo el nombre de cada figura.



▶ cerchio círculo

▶ cubo cubo

▶ rettangolo rectángulo

▶ quadrato cuadrado

▶ rettangolo rectángulo

▶ cerchio círculo

▶ rettangolo rectángulo

▶ triangolo triángulo

▶ quadrato cuadrado

▶ triangolo triángulo

▶ cerchio círculo

▶ triangolo triángulo

**7 Metti in ordine i numeri dal più piccolo al più grande:
Ordene de menor a mayor:**

152 2 14 7 125 41 20

--	--	--	--	--	--	--	--

**8 Completa la serie dei numeri.
Completa la cuenta:**

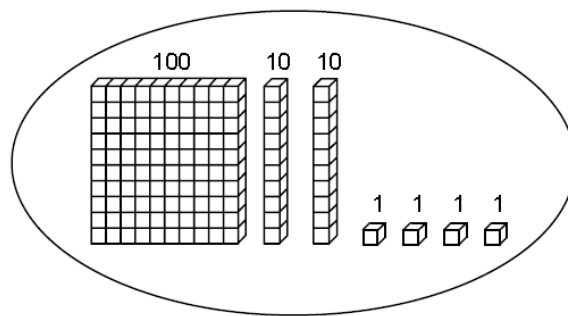
150	140	130	50
-----	-----	-----	-------	-------	-------	-------	-------	-------	-------	----

9 Osserva l'esempio e cerchia il numero corretto.

Marca con un círculo el número que corresponde, como en el ejemplo

Esempio:

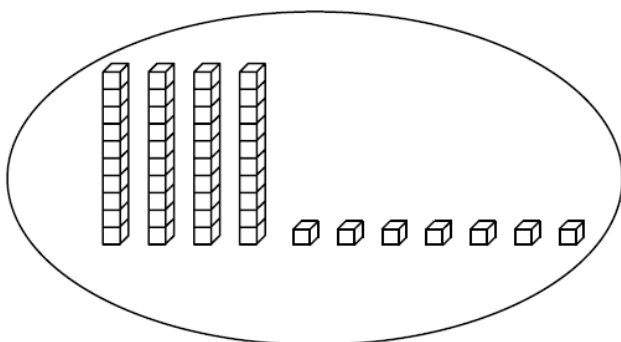
Ejemplo:



421

124

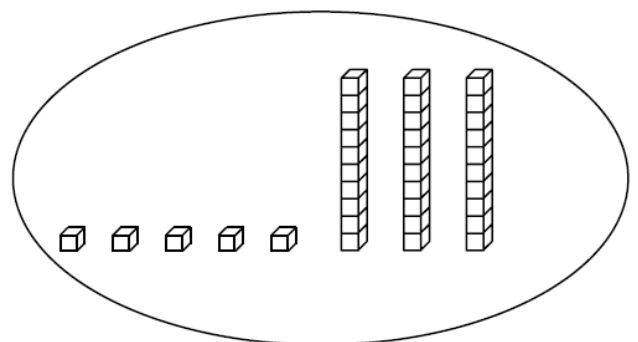
241



84

74

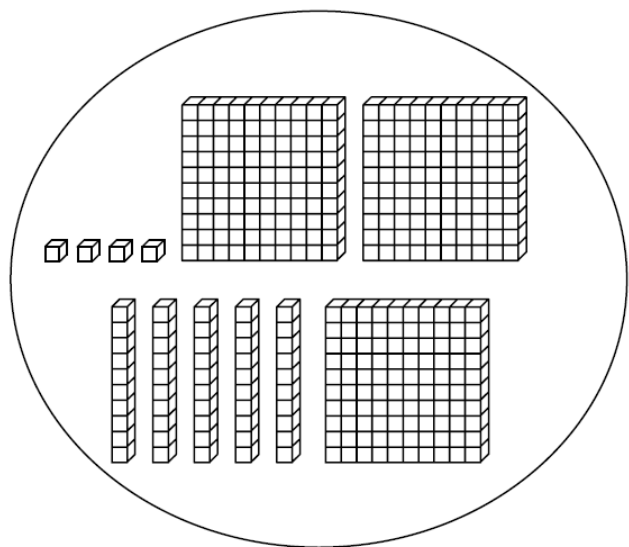
47



35

53

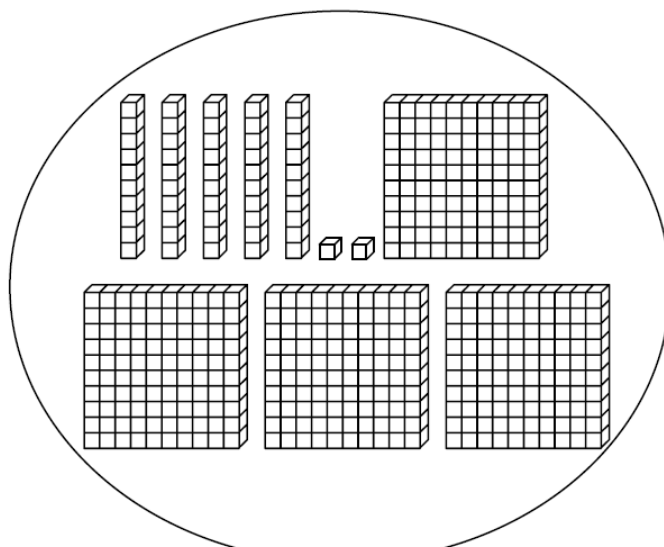
23



354

345

454



542

452

245

10 Calcola. Calcola.

$$48 +$$

$$31$$

$$166 +$$

$$254$$

11 Calcola. Calcola.

$$87 -$$

$$52$$

$$512 -$$

$$139$$

12 Leggi il problema e cerchia la risposta corretta**Lee el enunciado del problema y marca la respuesta**

a) Enzo ha 14 palloni rossi e 16 palloni azzurri. Quanti palloni ha in tutto?

Enzo tiene 14 globos rojos y 16 globos azules. ¿Cuántos globos tiene en total?

▶ $16 - 14$

▶ $14 + 14$

▶ $16 + 14$

b) Nella classe ci sono 29 alunni. 15 sono ragazzi. Quante ragazze ci sono?

En la clase, hay 29 alumnos. 15 de los alumnos son chicos. ¿Cuántas chicas hay?

▶ $29 + 15$

▶ $15 + 29$

▶ $29 - 15$

