

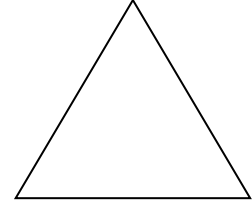
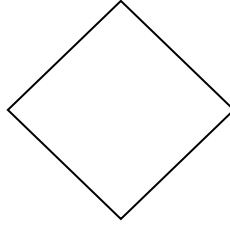
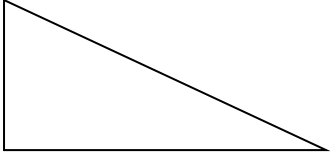
<p>1 Calcola. গণনা</p> <div style="text-align: center; margin-top: 20px;"> $\begin{array}{r} 297 \\ \times 35 \\ \hline \end{array}$ </div>	<div style="text-align: center; margin-top: 20px;"> $\begin{array}{r} 5,26 \\ \times 43 \\ \hline \end{array}$ </div>
---	--

<p>2 Risolvi in Colonna. সমাধান করুন.</p>	<p>408 ÷ 3</p>	
--	-----------------------	--

<p>3 Risolvi in Colonna. সমাধান করুন.</p>	<p>164,8 + 26,57</p>	
--	-----------------------------	--

<p>4 Completa le uguaglianze. সমতা সম্পূর্ণ করুন.</p> <p>4 anni বছর = mesi মাস</p> <p>1 kg কেজি = g ওজন</p> <p>1 ora ঘন্টা = min মিনিট</p> <p>1 km কিলোমিটার = m মিটার</p>	<p>30 m মি =cm সেন্টিমিটার</p> <p>120 min মিনিট =ore ঘন্টা</p> <p>1 min মিনিট = s সেকেন্ড</p> <p>1 m মিটার = cm সেন্টিমিটার</p> <p>1 l লিটার = cl লিটার</p>
---	---

5 Cerchia il nome di ognuna figura. বৃত্ত প্রতিটি চিত্র নাম.



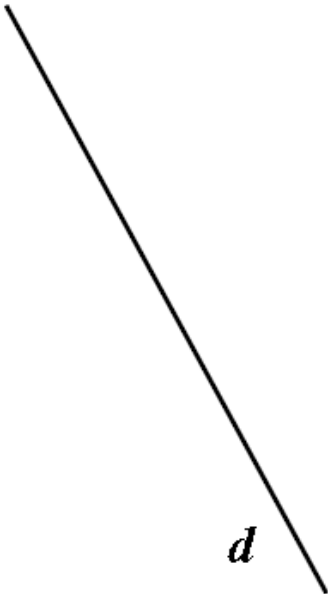
- ▶ triangolo isoscele
সমার্থক ত্রিভুজ
- ▶ triangolo rettangolo
ত্রিভুজ আয়তক্ষেত্র
- ▶ rombo
রম্বস
- ▶ triangolo equilatero
সমান্তরাল ত্রিভুজ

- ▶ triangolo
ত্রিভুজ
- ▶ rettangolo
আয়তক্ষেত্র
- ▶ cubo
ঘনক্ষেত্র
- ▶ rombo
রম্বস

- ▶ triangolo equilatero
সমান্তরাল ত্রিভুজ
- ▶ parallelogramma
সমান্তরিক-ক্ষেত্র
- ▶ triangolo rettangolo
ত্রিভুজ আয়তক্ষেত্র
- ▶ rombo
রম্বস

6 Disegna una retta parallela alla retta d .

লাইন ডি সমান্তরাল একটি লাইন আঁকা.



7 Disegna una retta perpendicolare alla retta d
লাইন সোজা লাইন আঁকা ডি.



8 Osserva l'esempio: উদাহরণ দেখুন:

Esempio: উদাহরণ:



Abbiamo colorato di grigio. $\frac{7}{10}$. della banda.

আমরা রঙীন ধূসর আছে ব্যান্ড এর

a) Completa la frase usando una frazione, come si vede nell' esempio

উদাহরণ হিসাবে দেখা একটি ভগ্নাংশ ব্যবহার করে বাক্যটি সম্পূর্ণ করুন:



Abbiamo colorato di grigio della banda.

আমরা রঙীন ধূসর আছে ব্যান্ড এর

b) Colora রং করুন $\frac{3}{4}$

--	--	--	--

c) Colora রং করুন $\frac{1}{3}$

--	--	--	--	--	--

9 Cerchia la frazione uguale a 5,4:

৯ ক্রমিক ভগ্নাংশ সমান 5,4:

$$\frac{54}{100} \quad \frac{9}{10} \quad \frac{54}{10} \quad \frac{4}{5} \quad \frac{5}{4}$$

10 Cerchia il numero uguale a: ১০ বৃত্ত সংখ্যা সমান: $\frac{23}{10}$

230 0,23 2,3 23 3,2

11 Metti in ordine dal più piccolo al più grande.

ডান রাখুন ছোট বৃহত্তম:

3,04 3,40 0,34 3,24 30,4 304,04 34,04

.....
-------	-------	-------	-------	-------	-------	-------

12 Leggi il problema e risolvi. সমস্যা পড়ুন এবং সমাধান.

a) Paolo compra 43 caramelle. Anna ha 65 caramelle. Quante caramelle più di Paolo ha Anna?

Paolo ৪৩ candies ক্রয়. আনা. ৬৫ ক্যান্ডি আছে. পৌলের চেয়ে কত বেশি মিষ্টি আনা আছে?

Risposta/ উত্তর:

b) Per una competizione, degli sportivi devono superare 3 prove: bicicletta, nuoto e corsa. Percorrono 84 km in bici e 5 km a nuoto. Alla fine, per le 3 prove devono percorrere 109 km.

Che distanza hanno percorso durante la corsa a piedi?

প্রতিযোগিতার জন্য, ক্রীড়াবিদ অবশ্যই ৩ টি পরীক্ষা পাস করতে হবে: সাইক্লিং, সাঁতার কাটানো এবং চলমান. তারা সাইকেল দ্বারা ৮৪ কিমি এবং সাঁতার দ্বারা ৫ কিমি যাত্রায়. শেষ পর্যন্ত, ৩ পরীক্ষার জন্য ১০৯ কিমি ভ্রমণ করতে হবে.

পায়ে দৌড়ের সময় তারা কত দূরত্ব ভ্রমণ করেছিল?

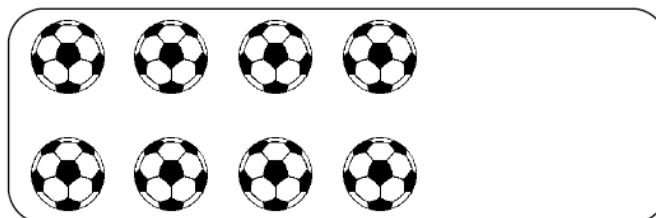
Risposta/ উত্তর:

13 Completa. সম্পূর্ণ করুন.

12 €



..... €



..... €



18 €