

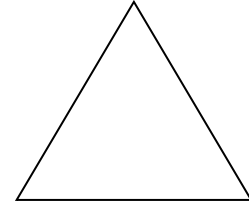

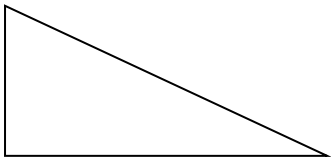
<p><b>1</b> <b>Calcola.</b> 计算</p> <div style="text-align: right; padding-right: 20px;"> <math display="block">\begin{array}{r} 297 \\ \times 35 \\ \hline \end{array}</math> </div>	<div style="text-align: right;"> <math display="block">\begin{array}{r} 5,26 \\ \times 43 \\ \hline \end{array}</math> </div>
--	---

<p><b>2</b> <b>Risolvi in Colonna.</b> 按正确的数学格式书写运算过程并给出结果</p>	
$408 \div 3$	

<p><b>3</b> <b>Risolvi in Colonna.</b> 按正确的数学格式书写运算过程并给出结果</p>	
$164,8 + 26,57$	

<p><b>4</b> <b>Completa le uguaglianze.</b> 填充以 等式，使其完整</p> <p>4 anni 年 = ..... mesi 月</p> <p>1 kg 公斤 = ..... g 克</p> <p>1 ora 小时 = ..... min 分钟</p> <p>1 km 公里 = ..... m 米</p>	<p>30 m 米 = ..... cm 厘米</p> <p>120 min 分钟 = ..... ore 小时</p> <p>1 min 分钟 = ..... s 秒</p> <p>1 m 米 = ..... cm 厘米</p> <p>1 l 升 = ..... cl 毫升</p>
---	--

5 Cerchia il nome di ognuna figura 圈出对应的图形名称



- ▶ triangolo isoscele  
等腰三角形
- ▶ triangolo rettangolo  
直角三角形
- ▶ rombo  
菱形
- ▶ triangolo equilatero  
等边三角形

- ▶ triangolo  
三角形
- ▶ rettangolo  
长方形
- ▶ cubo  
正方体
- ▶ rombo  
菱形

- ▶ triangolo equilatero  
等边三角形
- ▶ parallelogramma  
平行四边形
- ▶ triangolo rettangolo  
直角三角形
- ▶ rombo 菱形

6 Disegna una retta parallela alla retta *d*.

作一条 行于直线平的直线



**7 Disegna una retta perpendicolare alla retta  $d$** 作一条垂直于直线  $d$  的直线**8 Osserva l'esempio:** 看例子:

Esempio: 例子:



Abbiamo colorato di grigio.  $\frac{7}{10}$ . della banda.

我们给  $\frac{7}{10}$  的带子涂上阴影.

**a) Completa la frase usando una frazione, come si vede nell' esempio**

按例子中那样将分数填入以下句子。



Abbiamo colorato di grigio . . . . . della banda.

我们给. . . . . 的带子涂上阴影。

b) Colora 涂颜色  $\frac{3}{4}$

--	--	--	--

c) Colora 涂颜色  $\frac{1}{3}$

--	--	--	--	--	--

9 Cerchia la frazione uguale a 5,4:

圈出等于 5.4 的分数。

$$\frac{54}{100} \quad \frac{9}{10} \quad \frac{54}{10} \quad \frac{4}{5} \quad \frac{5}{4}$$

10 Cerchia il numero uguale a:  $\frac{23}{10}$  圈出等于  $\frac{23}{10}$  的数

230   0,23   2,3   23   3,2

11 Metti in ordine dal più piccolo al più grande.

按从小到大的顺序排序。

3,04

3,40

0,34

3,24

30,4

304,04

34,04

.....	.....	.....	.....	.....	.....	.....
-------	-------	-------	-------	-------	-------	-------

**12 Leggi il problema e risolvi.** 读题并找出正确答案。

**a)** Paolo compra 43 caramelle. Anna ha 65 caramelle. Quante caramelle più di Paolo ha Anna?

保罗买了43 块糖果。安娜有 65 块糖。安娜的糖比保罗的多几块?

Risposta 回答: .....

**b)** Per una competizione, degli sportivi devono superare 3 prove: bicicletta, nuoto e corsa. Percorrono 84 km in bici e 5 km a nuoto. Alla fine, per le 3 prove devono percorrere 109 km. Che distanza hanno percorso durante la corsa a piedi?

运动员参加一个比赛，要进行三个项目：自行车，游泳和跑步。  
他们骑自行车骑了84 公里，游泳游了5 公里。  
三个项目全程是109 公里。  
请问运动员们一共跑了多少公里？

Risposta 回答: .....

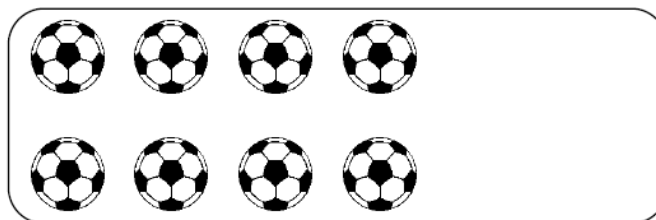
**13 Completa.** 使下式完整。



12 €



..... €



..... €



18 €